

ATIVIDADES ROTINA 8 À 10 DE JUNHO (2º ANOS)

SEGUNDA-FEIRA (08/06/20)

Apostila **Aprender sempre (Matemática)**

Sequência 3 – Na escola.

Atividade 1 – Localização – Resolva os exercícios 1 e 2.

SEQUÊNCIA 3 NA ESCOLA

DATA:08/06/2020

ATIVIDADE 1

1. LOCALIZE A SALA DE AULA DE FELIPE. ELE ESTÁ NO 2º ANO:



- SALA DE AULA DE FELIPE ESTÁ ENTRE A SALA 3 (1º Ano) E A SALA 5 (3º Ano).
- PARA CHEGAR À SALA DE LEITURA, FELIPE PASSA EM FRENTE À SALA 3 (1º Ano) E À SALA 2 (Sala de informática).
- AO LADO DA SALA DE INFORMÁTICA, ESTÃO A SALA 1 (Sala de leitura) E A SALA 3 (1º Ano).

DATA: 08/06/2020

2. REPRESENTA SUA SALA DE AULA, OBSERVANDO AS SALAS QUE ESTÃO PRÓXIMAS A ELA.

Atividade 2 – Medidas – Resolva o exercício 1.

ATIVIDADE 2

DATA: 08/06/2020

OPAIDE FELIPE É MARCENEIRO E USA O METRO COMO MEDIDA PADRÃO PARA MEDIR COMPRIMENTOS (LARGURA E ALTURA).




Ilustração: Ana Célia da Costa

1. FAÇA MEDIÇÕES EM SUA CASA, UTILIZANDO 1 METRO DE BARBANTE E REGISTRE O QUE VOCÊ ENCONTROU.

MENOR QUE 1 METRO	IGUAL A 1 METRO	MAIOR QUE 1 METRO
A PORTA	A PIA	A JANELA

Caderno de casa DATA: 08/06/2020

1 – Faça uma lista com o nome de 5 animais silvestres.

Onça
Leão
Elefante
Girafa
Zebra

2 – Faça uma lista com o nome de 5 animais domésticos ou que convivemos em nosso dia a dia.

Cachorro
Gato
Galinha
Coelho
Tartaruga

Apostila Aprender Sempre (Português)

Atividade 3 – Investigar é preciso: animais silvestres na cidade de São Paulo.

Resolva os exercícios número 5 e 6.

5. NO TEXTO A SEGUIR, HÁ TAMBÉM ALGUNS NOMES DE ANIMAIS QUE APARECEM EM ALGUNS PARQUES DA CIDADE. LEIA COM A AJUDA DO SEU RESPONSÁVEL E CIRCULE O NOME DOS ANIMAIS.

É BICHO PRA CACHORRO!

AVES



COM 285 ESPÉCIES, AS AVES SÃO O GRUPO MAIS NUMEROSO. ALÉM DOS BANDOS DE PARDALIS, POMBAS E MARIQUETAS, QUE PODEM SER FACILMENTE VISTOS EM MEIO AO CAOS URBANO, SÃO PAULO TAMBÉM TEM AVES RARAS, COMO O FALCÃO-PEREGRINO, O GAVIÃO-RELÓGIO, A AGUIA-PESCADORA E O PAPO-BRANCO, UM PASSARO QUE CORRE O RISCO DE EXTINÇÃO.

RÉPTEIS




DE TEMPOS EM TEMPOS, UM JACARÉ DÁ AS CARAS NO POLUÍDO RIO TIETÊ. SÃO PAULO É LAR DE 37 ESPÉCIES DE RÉPTEIS, ENTRE CAGADOS, CAMALEÕES, IGUANAS, LAGARTOS, TEIUS E LAGARTIXAS. SÓ DE COBRAS, SÃO 23 TIPOS DIFERENTES (DORMIDEIRAS, CASCAVEL, JARARACA, COBRA-CIPO ETC.).

PEIXES

COMO OS GRANDES RIOS DA CIDADE SÃO POLUÍDOS DEMAIS, QUASE NÃO EXISTEM PEIXES NELES. AS 9 ESPÉCIES DE PEIXES VIVEM NOS LAGOS DOS PARQUES. ALÉM DAS CARPAS DO IBIRAPUERA, A CIDADE TAMBÉM ABRIGA SURUBINS, BAGRES-AFRICANOS, GUARUS, TILAPIAS, SARAPOS, CURIMBATÁS, LEBISTES E ACARÁS.



MAMÍFEROS



OS MAMÍFEROS SILVESTRES DO MUNICÍPIO SÃO DE 57 ESPÉCIES. ENTRE ELAS, HÁ ONÇAS, PARDAS, VEADOS, CATINGUEIROS, PREGUIÇAS, LONTRAS, BUGIOS, MACACOS-PREGO E CAPIVARAS. ELES VIVEM NAS ÁREAS MAIS PROTEGIDAS, COMO NO EXTREMO SUL, REGIÃO DE MATA ATLÂNTICA.

ANFÍBIOS



DAS 40 ESPÉCIES DE ANFÍBIOS JÁ ENCONTRADAS EM SÃO PAULO, 21 SÃO ENDÊMICAS. ENTRE ELAS O SAPINHO-ARBORÍCOLA-DE-POLEGAR-CURTO, A PERERECA-DE-BANHEIRO, A RAZINHA-PIADEIRA, O SAPO-CURURO, A PERERECA-VERDE E A PERERECA-TREPADORA-PUNCTATA.

DISPONÍVEL EM: [HTTPS://SUPER.ABRIL.COM.BR/CENCIA/QUE-ANIMAIS-SILVESTRES-VIVEM-NA-CIDADE-DE-SAO-PAULO/](https://super.abril.com.br/ciencia/que-animais-silvestres-vivem-na-cidade-de-sao-paulo/). APERECA.FEB.10.ABB.018

DATA:08/06/2020

6. REFLITA SOBRE AS INFORMAÇÕES DO TEXTO A PARTIR DAS PROPOSTAS A SEGUIR:
- a. CIRCULO TODOS OS ANIMAIS? CONVERSE COM AS PESSOAS DE SUA CASA SOBRE QUAIS ANIMAIS CONHECEM E QUAIS NÃO CONHECEM.

RESPOSTA PESSOAL

- b. QUAIS OS NOMES DOS ANIMAIS QUE APARECERAM NO TEXTO? ESCREVA ESSA LISTA EM ORDEM ALFABÉTICA. VAMOS RELEMBRAR O QUE É ORDEM ALFABÉTICA?

AÇARÁS	MACACOS - PREGOS
ÁGUIA - PESCADORA	MARITACAS
BAGRES - AFRICANOS	ONÇAS - PARDAS
BUGIOS	PAPO - BRANCO
CÁGADOS	PARDAIS
CAMALEÕES	PÁSSARO
CAPIVARAS	PEIXES
CARPAS	PERERECA - DE - BANHEIRO
CASCAVEL	PERERECA - TREPADORA - PUNCTADA
COBRA	PERERECA - VERDE
COBRA - CIPÓ	POMBAS

CURIMBATÁS	PREGUIÇAS
DORMIDEIRAS	RÃZINHA - PIADEIRA
FALCÃO - PEREGRINO	SAPINHO-ARBORÍCOLA-DE- POLEGAR-CURTO
GAVIÃO-RELÓGIO	SAPO-CURURU
GUARUS	SARAPÓS
IGUANAS	SURUBINS
JACARÉ	TEIÚS
JARARACA	TILÁPIAS
LAGARTIXAS	VEADOS-CATINGUEIROS
LAGARTOS	
LEBISTES	
LONTRAS	

TERÇA-FEIRA (09/06/20)

Apostila Aprender sempre (Matemática)


Continuação - Sequência 3 – Na escola.

Atividade 3 – Agrupamentos (conjuntos), sequência numérica – Resolva os exercícios 1, 2 e 3.

ATIVIDADE 3


DATA: 09/06/2020

1. A COLEÇÃO DE TAMPINHAS DE GARRAFA DE FELIPE AUMENTOU E ELE PEDIU AJUDA AOS AMIGOS PARA CONTÁ-LAS. VEJA O QUE ELES FIZERAM:



- a. HÁ QUANTOS GRUPOS DE TAMPINHAS? 10 GRUPOS
- b. HÁ QUANTAS TAMPINHAS EM CADA GRUPO? 10 TAMPINHAS
- c. NO TOTAL, HÁ QUANTAS TAMPINHAS? 100 TAMPINHAS

2. FELIPE E DAVI PULAVAM CORDA NO PÁTIO DA ESCOLA, QUANDO FELIPE LANÇOU UM DESAFIO: |



3. ESCREVA OS NÚMEROS RECITADOS NO QUADRO ABAIXO:

101	102	103	104	105	106	107	108	109	110
111	112	113	114	115	116	117	118	119	120
121	122	123	124	125	126	127	128	129	130

Caderno de casa - DATA: 09/06/2020

Atividade Matemática:

Arme e efetue:

$115 + 240 = 355$

$239 - 112 = 127$

$290 - 180 = 110$

$250 + 100 = 350$

$$\begin{array}{r} \text{C D U} \\ 1 \ 15 \\ + 2 \ 40 \\ \hline 3 \ 55 \end{array}$$

$$\begin{array}{r} \text{C D U} \\ 2 \ 3 \ 9 \\ - 1 \ 1 \ 2 \\ \hline 1 \ 2 \ 7 \end{array}$$

$$\begin{array}{r} \text{C D U} \\ 2 \ 9 \ 0 \\ - 1 \ 8 \ 0 \\ \hline 1 \ 1 \ 0 \end{array}$$

$$\begin{array}{r} \text{C D U} \\ 2 \ 5 \ 0 \\ + 1 \ 0 \ 0 \\ \hline 3 \ 5 \ 0 \end{array}$$

Caderno de casa - DATA: 09/06/2020

Atividade Português:

1 - Escreva a cantiga "Se eu fosse um peixinho" em uma folha de sulfite ou folha separada (usaremos para fazer nosso livro).

2 - Ilustre a cantiga.

SE EU FOSSE UM PEIXINHO

SE EU FOSSE UM PEIXINHO
E SOUBESSE NADAR
EU TIRAVA A (O) _____
LÁ DO FUNDO DO MAR.



QUARTA-FEIRA (10/06/20)

Caderno de casa- DATA: 10/06/2020

Atividade Português:

1 - Escreva a cantiga "Indiozinhos" em uma folha de sulfite ou folha separada (usaremos para fazer nosso livro).

2 - Ilustre a cantiga.

OS INDIOZINHOS

1, 2, 3 INDIOZINHOS
4, 5, 6 INDIOZINHOS
7, 8, 9 INDIOZINHOS
10 NUM PEQUENO BOTE



IAM NAVEGANDO PELO RIO ABAIXO
QUANDO O JACARÉ SE APROXIMOU
E O PEQUENO BOTE DOS INDIOZINHOS
QUASE ... QUASE ... VIROU.



Atividade Matemática:

Observe os números abaixo e coloque-os em ordem crescente:

22 – 10 – 176 – 4 – 263 – 351 – 98 - 50

Ordem crescente: 4 – 10 – 22 – 50 – 98 – 176 – 263 – 351

Apostila Aprender sempre (Matemática)

Atividade 4 – Labirinto, sequência de 2 em 2. Resolva os exercícios 4, 5 e 6.

ATIVIDADE 4

DATA: 10/06/2020

4. DOIS COLEGAS DE FELIPE DESENHARAM UM LABIRINTO DE NÚMEROS COM FELIPE EM UM CANTO E DAVI NO OUTRO. AJUDE FELIPE A SE ENCONTRAR COM DAVI, ATRAVESSANDO O LABIRINTO E USANDO UMA SEQUÊNCIA DE 2 EM 2.



	10	14	16	19	20	22	26
	22	24	32	28	23	28	16
20	44	26	31	25	24	35	19
25	41	28	30	32	34	36	38
30	35	33	15	12	56	68	
45	40	45	50	55	60	65	

Ilustração: Ana Rêgina Costa

PINTE OS NUMEROS 22-24-26-28-30-32-34-36-38 CHEGOU

5. PROCURE NO LABIRINTO UM CAMINHO DE VOLTA, PERCORRENDO UMA SEQUÊNCIA NUMÉRICA DE 5 EM 5. PINTE OS NÚMEROS DESSE CAMINHO.

PINTE OS NUMEROS 65- 60-55-50-45-40-45-35-30-25-20 CHEGOU

6. COMPLETE A SEQUÊNCIA COM OS NÚMEROS QUE ESTÃO FALTANDO. A SEQUÊNCIA DEVE SER ORGANIZADA DE 2 EM 2.

50		54		58	60
	52		56		
62		66		70	72
	64		68		
74		78		82	84
	76		80		